

Colegio  
Virginia Bravo  
CORMUN RANCAGUA

GUÍA N° 14  
MATEMÁTICA  
2° AÑO BÁSICO

LUNES 12 DE ABRIL - 2021





**Objetivo de Aprendizaje:** Practicar operaciones básicas a través de resolución de problemas para lograr un buen resultado de forma individual.

**OA9:** Demostrar que comprende la adición y la sustracción en el ámbito del 0 al 100: usando un lenguaje cotidiano

**Habilidades:** Resolver, aplicar, calcular

**Unidad 1:** “Conocer los números hasta el 500”

**Profesora:** Karin Díaz A.





Comenzamos con un cálculo mental a través  
de un video

**¡¡¡¡¡¡¡¡**

<https://www.youtube.com/watch?v=8m4TyXgteZs>

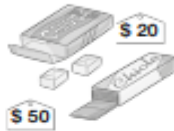




DESARROLLEMOS  
ACTIVIDADES TEXTO  
ESCOLAR, PÁG. 11 Y 12



- 1 Compré calugas por 20 pesos y chicles por 50 pesos. ¿Cuánto pagué en total?



$$\square + \square = \square$$

Respuesta:  pesos.

- 2 Inventa sumas.

$$\square + \square = 90$$

$$\square + \square = 100$$

$$\square + \square = 70$$

$$\square + \square = 80$$

- 5 Hernán compra 4 hojas chicas y 4 hojas grandes de papel. Una hoja chica vale \$5, una grande vale \$10. El tiene una moneda de \$50 y tres monedas de \$10. Después de pagar, ¿cuánto dinero le queda?  
Respuesta: le quedan  pesos.

- 3 De 80 hojas de colores usé 30. ¿Cuántas me quedan?



$$\square - \square = \square$$

Respuesta:  hojas.

- 4 Inventa restas para estos resultados.

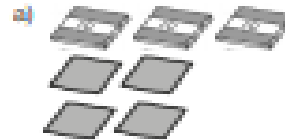
$$\square - \square = 10$$

$$\square - \square = 40$$

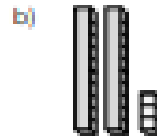
$$\square - \square = 30$$

$$\square - \square = 80$$

- 1 ¿Cuántos hay?



Respuesta:  personas.



Respuesta:  unidades.

- 2 Completa.

a) 9 decenas y 4 unidades son:

b) 7 decenas, y 9 unidades son:

c) 3 unidades menos que 60 es:

d) 2 más que 98 son:

- 3 Escribe.



- 4 Calcula.

a)  $30 + 50 =$

b)  $80 - 40 =$

c)  $85 - 5 =$

d)  $43 + 6 =$

e)  $100 - 30 =$

f)  $9 + 30 =$

- 5 En el bus hay 7 adultos y 28 niños. ¿Cuál es la diferencia entre adultos y niños?

Respuesta:  personas.



**Para finalizar viene  
Ticket de Salida**

ESCRIBE EL  
RESULTADO EN  
EL CHAT

“Resuelve”

15

+

35

=

51

-

5

=